

Mardi 5 mai

Orthographe

Mots à apprendre pour la dictée de la semaine prochaine



Nom : naufrage, permission, bâtiment

Adjectif : impérial (pluriel impériaux)

Verbe : faciliter, quitter, s'enfermer

Mots invariables : après , environ

Texte de la semaine

25

Les voyages de Gulliver (1)

Les droits de Gulliver, l'homme montagne

Après un naufrage en mer, Gulliver est sur l'île de Lilliput. Tout est minuscule, les habitants, les Lilliputiens mesurent 15 cm environ. Sa très Haute Majesté propose un règlement à Gulliver pour lui faciliter la vie.

I. L'homme montagne obéit à nos ordres. Il ne quitte pas notre Empire sans notre permission.

II. Il ne vient dans notre capitale qu'avec notre permission. Deux heures avant, il avertit les habitants pour qu'ils s'enferment chez eux.

III. L'homme montagne peut circuler dans nos principaux grands chemins. Il ne va ni dans un pré ni dans un champ de blé.

IV. En se promenant, il pense à nos fidèles sujets, à leurs chevaux ou voitures, il ne les écrase pas ; quand il voit un de nos sujets, il ne le prend pas dans ses mains.

V. Quand un de nos messagers a une course extraordinaire à faire, l'homme montagne le transporte dans sa poche.


VI. L'homme montagne aide à la construction de nos bâtiments impériaux.

Grammaire


Activités sur le groupe nominal




Rappel : genre : masculin-féminin, nombre : singulier/pluriel

 1- Recopie ces GN et indique leur genre et leur nombre.

nos principaux grands chemins - nos ordres - notre Empire -
notre capitale - un champ - nos fidèles sujets - leurs chevaux -
ses mains - nos messagers - nos bâtiments impériaux
certains grosses pierres - nos terres - notre palais - un accès
libre

 2- Recopie les GN ci-dessus en changeant leur nombre.

 3- Recopie ces groupes nominaux en leur ajoutant un adjectif qualificatif.
Attention, tu ne dois pas utiliser 2 fois le même !

un cheval - les habitants - la capitale - l'aventure - notre terre
- son palais - un champ - ton cheval

Grammaire

Activités sur les phrases



Double clique ici pour l'imprimer →

Activités sur les phrases

- ✓ 1- Compter le nombre de phrases dans chaque article du règlement.
- ✓ 2- Trouve les phrases négatives.
- ✓ 3- Ecris les phrases suivantes à la forme négative.
L'homme montagne dira encore à nos ordres.

Il avertira toujours les habitants.

- ✓ 4 - Dans ces 2 phrases, entoure le sujet en bleu, (indique s'il s'agit d'un pronom ou d'un GN), le verbe en rouge et les groupes supprimables ou déplaçables en vert. Donne l'infinitif du verbe.
Deux heures avant, l'homme montagne avertira les habitants.
Lors de ses promenades, Gulliver suivra les chemins.

- 1- Recopie ces phrases et souligne le verbe en rouge, le sujet en bleu et les groupes supprimables ou déplaçables en vert. Indique l'infinitif du verbe.
*Lors d'un autre voyage, Gulliver explore le pays des Géants.
Il rit avec des Géants pendant deux ans.
Des quêtes géantes attaquent Gulliver forcément au cours du repas.*
- 2- Recopie ces phrases en changeant les groupes déplaçables et supprimables de place.

Production écrite – en lien avec le texte de la semaine

Tu as toute la semaine pour prendre le temps de rédiger ton écrit.

« Ecris un règlement pour un dragon qui vient passer quelques temps dans notre école »

Consignes à respecter :

Ecrire un règlement sur le modèle du règlement de Gulliver

Ecrire au moins cinq phrases (davantage selon l'inspiration)

Soigner son écriture, se relire pour éviter les erreurs d'orthographe

Penser à la majuscule et au point

Respecter les accords : sujet/verbe

Respecter les accords dans le groupe nominal

Tu as tout à fait le droit d'écrire des phrases drôles et originales (pense à ce que le dragon ferait à la cantine, sur la cour, dans les classes...)

Lecture

Cendrillon dépoussiérée

Terminer de lire *Cendrillon dépoussiérée*

Mathématiques – QCM


Je prépare le bilan : clique ici si tu veux l'imprimer et le coller dans ton GCO →

Ou ouvre ton cap maths numération page 74

Je prépare le bilan **QCM**

Choisis la ou les bonnes réponses.

A Sur cette ligne graduée, le nombre 785 peut être placé en face du repère:



a A b B c C d D

B Le nombre 1963 est proche de:

a 1 000 b 2 000 c 3 000 d 4 000

C Le résultat de $589 + 117$ est proche de:

a 600 b 700 c 1500 d 1600

D Le résultat de $692 - 319$ est proche de:

a 400 b 300 c 500 d 1000

E Dans une boîte de biscuits, il y a 8 biscuits donc:

a dans 10 boîtes, il y a 80 biscuits. c dans 12 boîtes, il y a 82 biscuits.
b dans 12 boîtes, il y a 96 biscuits. d dans 12 boîtes, il y a 20 biscuits.

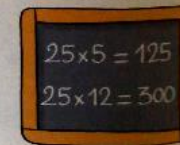
F Utilise les résultats de cette ardoise.

25×6 est égal à:

a 256 b 126 c 150 d 130


25×17 est égal à:

a 305 b 137 c 325 d 425



G Un fleuriste fait des bouquets avec des roses et des iris. Une rose coûte 2 € et un iris coûte 1 €. Il doit y avoir 10 fleurs par bouquet. Le prix d'un bouquet ne doit pas dépasser 13 €. Le fleuriste peut donc mettre :

a 3 roses et 6 iris. c 3 roses et 7 iris.
b 5 roses et 5 iris. d 2 roses et 8 iris.



Mathématiques – Corrigés du QCM

Je prépare le bilan > FICHER NOMBRES p. 74



QCM **A** 785 peut être placé en face du repère C.

QCM **B** 1 963 est proche de 2 000.

QCM **C** Le résultat de $589 + 117$ est proche de 700.

QCM **D** Le résultat de $692 - 319$ est proche de 400.

QCM **E** dans 10 boîtes, il y a 80 biscuits
dans 12 boîtes, il y a 96 biscuits.

QCM **F** 25×6 est égal à 150 25×17 est égal à 425.

QCM **G** 3 roses et 7 iris 2 roses et 8 iris.

Espace

Les déserts

